

3. SINIF

YENİ NESİL DENEME SINAVI



SINAVDAKİ SORULARIN KONU DAĞILIMI

- Türkçe** : Okuduğunu anlama, Eş anlam, Noktalama işaretleri, Abecesel sıralama, Heceleme, Satır sonu çizgisi, Yapım ekleri, Zıt anlam, Somut-soyut anlam, Cümle oluşturma, Sesteşlik, Metin türleri.
- Matematik** : Doğal sayılar, Basamaklar, Basamak ve sayı değerleri, Doğal sayı oluşturma, Sayıları karşılaştırma ve sıralama, Sayı örüntüleri tek ve çift doğal sayılar, Doğal sayıları çözümleme.
- Fen Bilimleri** : Dünya'mızın şekli, Katmanlar, Dünya'mızın şeklini ispatlayan olaylar, Katmanların özellikleri, Duyu organlarımız, Duyu organlarımızın görevleri, Duyu organlarımızın sağlığı, Dünya'mızın katmanları ve özellikleri, Dünya'mızın şekli üzerinde yorumlar.
- Hayat Bilgisi** : Farklılıklarımız, Arkadaşlarımızı seçerken, Olaylara karşı duygularımız, Kroki okuma, Okulda demokrasi, Sınıfımızdaki eşyalar, Davranışlarımız, Adres tarif etme, Aile içi yardımlaşma ve görev dağılımı, İlgi ve beceri alanlarımız, çözüm ararken.
- İngilizce** : Introducing oneself, Naming numbers, Asking about and introducing family members
- Sınav Sorularımız** : 15 Türkçe, 15 Matematik, 15 Fen Bilimleri, 15 Hayat Bilisi ve 10 İngilizce sorudan oluşmaktadır. Her derste sorulardan 4 tanesi çok kolay, 2 tanesi kolay, 2 tanesi orta ve 2 tanesi de zor sorulardan oluşmaktadır. Her dersten (İngilizce hariç) beşer tane "Yeni Nesil" tarzda sorular yer almaktadır.

VATAN UFKUNDA YÜKSELEN GÜNEŞ

Bir gece tatbikattan sonra Mustafa Kemal askerleri ile yürüyüş yapıyordu. Mustafa Kemal komutan olarak en önde yürüyordu. Hava aydınlanmak üzereydi. Birden:

- Çocuklar, neredeyse şafak sökecek. Yıllarca vatan ufuklarında doğacak parlak bir güneşi bekledim.

Güneş doğdu fakat gökteki bulutlar berraklığı gölgeliyordu. Mustafa Kemal meraklı bakışlar arasında tekrar konuştu:

- Hayır, hayır! Beklediğim böyle karanlık bulutlarla örtülü bir güneş değildir. Ben vatan ufkunda her türlü bulutlardan kurtulmuş bir güneşin doğuşunu bekliyorum ve bekleyeceğim.

Mustafa Kemal'in bu sözleri ancak 1923 yılı Cumhuriyet'in ilanı ile net bir şekilde anlaşılabilir.

(Atatürk'ten Anılar)

Yukarıdaki metni okuduktan sonra aşağıdaki iki soruyu cevaplayınız.

- 1- Yukarıdaki olay ne zaman yaşanmıştır?
 - A) Güneş doğduktan sonra kuşluk vakti.
 - B) Sabaha karşı güneş doğarken
 - C) Akşam güneş batmak üzereyken
- 2- Atatürk'ün vatan ufkunda doğan güneşten beklentisi nedir?
 - A) Vatanın düşmanlardan tamamen kurtuluşu
 - B) Havaların iyice ısınması
 - C) Kışın bitip ilkbaharın gelmesi

T E Y E K E N

- 3- Aşağıdaki kelimelerden hangisi yukarıda karışık olarak verilmiş kelimenin eş anlamlılarından biri değildir?
 - A) Kabiliyet
 - B) Beceri
 - C) Öz güven
- 4- Aşağıdaki hangi cümlenin sonuna farklı bir noktalama işareti konulmalıdır?
 - A) Ne demek istediğini anlamadım
 - B) Sen sabah bana ne söylemiştin
 - C) Bugün kantinden ne alacaksın
- 5- Aşağıdaki seçeneklerde verilen kelimelerden hangisi abecesel sıralamada "Dünya" kelimesinden sonra "Düzen" kelimesinden önce gelir?
 - A) Döner
 - B) Duvar
 - C) Dürüm

1. Kelime	2. Kelime
Çu-kur	O-va
Birleşik Kelime	
Çu-kur o-va Çu-ku-ro-va	

- 6- Aşağıda doğru olarak hecelenmiş hangi kelimedeyi yukarıdakine benzer bir örnek vardır?
- A) ka-ra-bu-lut
 B) ha-ti-boğ-lu
 C) ak-ça-a-ğaç

- 7- "Okulumuz" kelimesi,

O	K	U	L	U	M	U	Z
1	2	3	4	5	6	7	8

şeklinde sayılarla kodlanmıştır. Bu kelimeyi yazarken satır sonuna sığmadığında aşağıdaki kodları verilen hangi harfler arasından bölünemez?

- A) 1. ve 2. harfler arasından
 B) 3. ve 4. harfler arasından
 C) 5. ve 6. harfler arasından
- 8- Aşağıdaki hangi cümlede, altı çizili kelimenin kök anlamı aldığı ekten dolayı değişmiştir?
- A) Sokaktan simitçinin sesi geliyordu
 B) Karşı büfeden iki ekmek al
 C) Fırındaki börekler pişmiş mi?

- 9- Aşağıdaki seçeneklerin hangisinde zıt anlamlı iki kelime aynı cümlede kullanılmıştır?

- A) Okula sabah saat 08.30'da geliriz.
 B) Arka kapıdan giriş çıkışlar yasaklandı.
 C) Yıkanınca gömlekteki lekeler yok olmuştu.

- 10- Aşağıdaki hangi cümlede soyut (beş duyu organımızdan biri ile algılayamayıp sadece yaşadığımız) anlamlı bir kelime kullanılmıştır?

- A) Kardeşim gece güzel bir rüya görmüş.
 B) Dalından çilek toplayıp yedik.
 C) Koridorlarda koşmamalıyız.

11- Aşağıdaki hangi kelime grubunu abecesel sıraya koyduğumuzda anlamlı ve kurallı bir cümle olur?

- A) pek-kaliteye-eğitimde-önem
- B) topu-yeni-futbol-kardeşim
- C) doktora-bugün-gitmiş-annem

12- • Anlamdaşı sıyahtır.
• Zıt anlamı "ak"tır.
• Sesteş bir kelimedir.
• İki hecelidir.

Yukarıda özellikleri maddeler halinde verilen kelime seçeneklerinden hangisidir?

- A) Karanlık
- B) Karar
- C) Kara

13- • Her dizesi büyük harfle başlar.
• İkilik, üçlük, dörtlükler şeklinde yazılır.
• Başlığın her kelimesi büyük harfle başlamalıdır.
• Her dizesi satır başı ile başlar.
• Yazarına şair denir.
• Noktalama ve yazım kurallarına dikkat edilir.
• Dört dizeden oluşan her bölüme "kita" denir.

Yukarıdakilerden kaç tanesi sadece şiire ait özelliktir?

- A) 5
- B) 6
- C) 7

Birbiri ardına sıralanan eş görevli kelimeler arasında konan bir noktalama işaretidir.

14- Yukarıda belirtilen kurala uygun cümle aşağıdakilerden hangisidir?

- A) Kardeşim çantasına kitap, defter, kalem, silgi, abaküs ve diğer bütün eşyalarını çantasına koymuş.
- B) Her sabah mutlaka kahvaltımı yaparım.
- C) Teste hangi sorudan başlayacağıma bir türlü karar veremedim.

DAHA AĞIR OLMAZ MI?

Bir adam çalıştığı iş yerinin mektuplarını göndermek için postaneye geldi. Postacı mektuplardan birini tartıp:

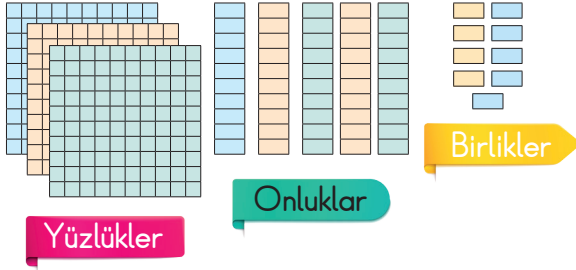
- Bu mektup çok ağır. Biraz daha pul yapıştırmanız lazım, dedi.

Adam da:

- Abi, o zaman mektup daha ağır olmaz mı?

15- Yukarıdaki fıkrada kaç kelime satır sonuna sığmadığından bölünemez?

- A) 8
- B) 12
- C) 15



- 1- Yukarıdaki doğal sayı ile ilgili aşağıdakilerden hangisi söylenemez?
- A) Rakamla "359" şeklinde yazılır.
B) Yazıyla "Üç yüz elli dokuz" şeklinde yazılır.
C) İki yüzlük fazlası "495"tir.

Basamakları	Basamak Değerleri	Sayı Değerleri
491 └─ Yüzlükler └─ Onlar └─ Birler	100 90 4	1 9 4
★	■	●

- 2- Yukarıdaki doğal sayı incelemesinde hangi sembolle gösterilen bölge doğrudur?
- A) ★ B) ■ C) ●

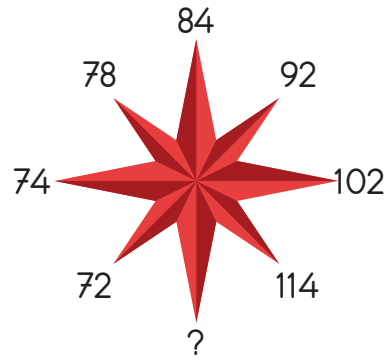


- 3- Yukarıdaki rakamları birer kez kullanarak oluşturulabilecek 3 basamaklı en büyük doğal sayı ile en küçük doğal sayının farkı kaçtır?

- A) 4 3 2
B) 3 3 2
C) 4 2 3

- 4- Aşağıdaki doğal sayı sıralamalarından hangisi doğrudur?

- A) $297 < 361 < 319 < 856$
B) $601 > 592 > 548 > 499$
C) $864 > 873 > 851 > 865$

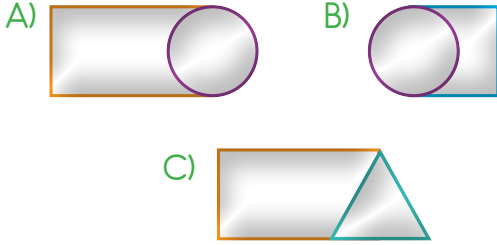


- 5- Yukarıdaki sayılar saat yönüne doğru belirli bir kurala göre sıralanmıştır. Buna göre "?" yerine aşağıdaki doğal sayılardan hangisi gelmelidir?

- A) 130 B) 128 C) 864

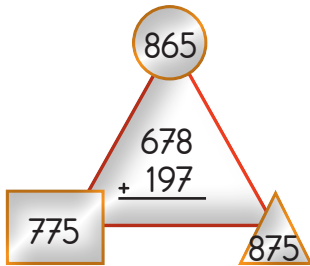
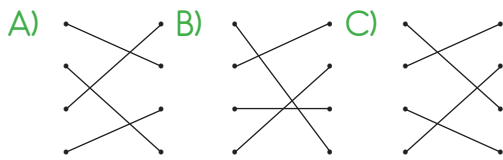


- 6- Yukarıdaki şekiller içindeki hangi iki sayının toplamı tek doğal sayıdır?



Dört yüz otuz beş	640
Altı yüz kırk üç	330
Yüz doksan yedi	440
Üç yüz otuz dört	200

- 7- Yukarıdaki doğal sayıların okunuşları ile bu doğal sayıların en yakın onlukları eşleştirmesi hangi seçenekte verilmiştir?



- 8- Yukarıdaki toplama işleminin sonucu hangi şekilde yazılmıştır?



- 9- Yandaki toplama işleminde verilmeyen rakamlardan elde edilen $(A + B) + (C + A)$ işleminin sonucu kaçtır?

$$\begin{array}{r} 39A \\ 207 \\ + 1B2 \\ \hline C84 \end{array}$$

- A) 20 B) 24 C) 25

- 10- Romen rakamlarıyla yapılan aşağıdaki hangi toplama işleminin sonucu 32 değildir?

- A) XIX + XIII =
B) XVII + XVI =
C) XIV + XVIII =

- Ben üç basamaklı bir doğal sayıyım.
- Tek doğal sayıyım.
- Basamak değerlerimin toplamı, sayı değerleri toplamından 603 fazladır.
- Kendi yüzlüğüme ve sonraki onluğa yuvarlanabiliyorum.
- Sayı değerleri toplamım bir düzineden iki, bir desteden 4 fazladır.
- Yüzler basamağımdaki rakamım, birler basamağımdaki rakamdan bir eksiktir.

- 11- Yukarıda kendini tanıtan doğal sayı aşağıdakilerden hangisidir?

- A) 716 B) 635 C) 617

12- Bir toplama işleminde:

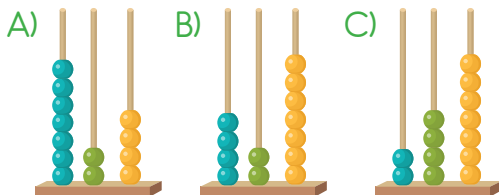
- * Birinci toplanan, rakamları aynı, en küçük ikinci tek rakamdan oluşan üç basamaklı doğal sayı.
- * İkinci toplanan, iki basamaklı en küçük çift doğal sayı.
- * Üçüncü toplanan, onlar basamağında 7 bulunan rakamları farklı üç basamaklı en küçük tek doğal sayıdır.

Buna göre toplama işleminin gerçek sonucu ile tahmini sonucu farkı kaçtır?

- A) 4 B) 6 C) 8

Yüzlükler	Onluklar	Birlikler

13- Yukarıda basamaklardaki verilenlerle sınırlı kalmak şartıyla aşağıdaki hangi abaküs resmi çizilirse doğal sayının çözümlenişi $(7 \times 10) + (2 \times 1) + (5 \times 100)$ şeklinde olur?



14- Benim oluşturduğum doğal sayı örüntüsünde başlangıç sayısı 24'tür. Örüntümü 8. adımda bitirdim. Örüntüm başladığım sayının 9 fazlasının 4 eksiğinin iki katı şeklinde devam ettiğine göre örüntünün devamında 9. ve 10. adımdaki sayılar aşağıdakilerden hangisi olamaz?

- A) 131 B) 262 C) 271

15- $\blacksquare + \blacksquare = 4$, $\blacksquare + \bullet = 5$

$$\bullet + \bullet = \blacktriangle, \blacktriangle - \blacksquare = \circ$$

Yukarıdaki şekillerle ifade edilen rakamlarla elde edilen $\blacktriangle \circ \bullet + \blacksquare \bullet \circ$ işleminin sonucu kaçtır?

- A) 788 B) 877 C) 887

- 1- Dünya'mızın yuvarlak olduğunu ispat etmek için Avrupa'dan gemisi ile yola çıkan denizcidir. Dünya turunu tamamlayamadan hayatını kaybetmiştir. Yukarıdaki bilgi aşağıdakilerden hangisine aittir?

A)



Macellan

B)



İdrisi

C)



Marko Polo

- Canlılar üzerinde yaşar.
- Üzerinde su katmanı bulunur.
- Dünya'nın en sert katmanıdır.
- Ateş küreyi çepeçevre sarar.

- 2- Yukarıda sözü edilen Dünya'nın hangi tabakasıdır?

- A) Su küre
B) Hava küre
C) Taş küre


- 3- Aşağıdakilerden hangisi Dünya'mızın görünen katmanları arasında değildir?

- A) Hava küre (Atmosfer)
B) Ateş küre (Magma)
C) Yer küre (Litosfer)

- 4- Emine Öğretmen, öğrencilerinden Dünya'mızın şekline örnek olabilecek nesnelere istemiştir.

Aşağıdaki nesnelere hangisi Emine öğretmenin istediği bir model değildir?

A)



B)



C)



- 5- Aşağıdaki ifadelerden hangisi Dünya'mızın yuvarlak olduğunun ispatıdır?

- A) Gökyüzü ile yeryüzünün ufukta birleşmesi
B) Asfalt yolların virajlı olması
C) Hava tabakasında rüzgarların esmesi

- 6- Aşağıdaki hangi görselde verilen canlı, Dünya'mızın iki katmanını aynı anda kullanmaktadır?


A)



B)



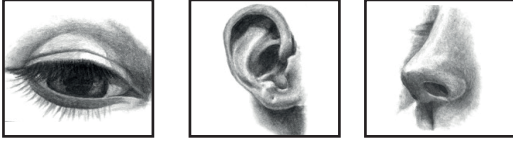
C)



7- Gittiğimiz bir sergide babam, Ressam Hale Ay'ın yağlı boya resmini inceleyip resim üzerinde yorumlar yaptı.

Resmi inceleme sırasında hangi duyunun aktif olduğu söylenebilir?

A) B) C)



8- Duyu organlarımız vücudumuzda bulunan hangi organla doğrudan ilişkilidir?

A) B) C)



Kalp

Mide

Beyin

9- Aşağıdakilerden hangisi dilimizin tatma görevinin dışındaki görevleri arasında yer almaz?

- A) Lokmaların ağızımızda çiğnenmesini kolaylaştırmak
B) Vücudumuzu dış etkenlerden korumak
C) Konuşmamıza yardımcı olmak.

10- Deniz kıyısına tatile gitmeden önce yanda görselleri verilen ürünleri satın alan Nail'in amacı nedir?



- A) Ağız ve diş sağlığını korumak
B) Güneş'in zararlı ışınlarından deri ve göz sağlığını korumak
C) Soğuktan vücudunu korumak

Çocukların gürültüsü uyandırmıştı beni



Hava esintili olunca üşüdüğümü hissettim.



Siyah takım elbise sana çok yakışmış.



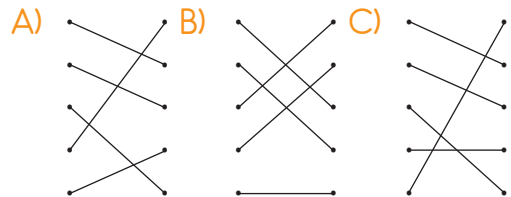
Burada en çok annemin lezzetli yemeklerini özlüyorum.

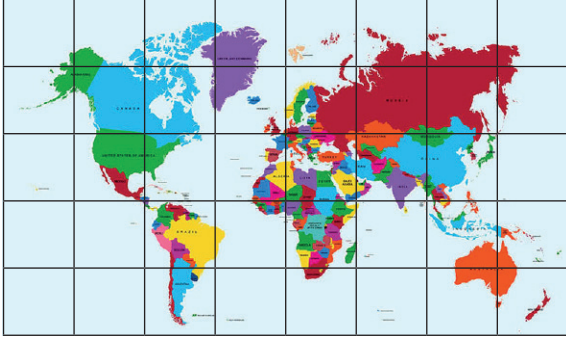


Bebek annesini en çok kokusundan tanır.



11- Yukarıdaki ifadeleri duyu organlarımızla eşleştirdiğimizde sonuç aşağıdakilerden hangisi olur?






12- Öğretmen derste, "Dünya'mızın dörtte üçü sudur" demişti.

Buna göre yukarıdaki haritanın kaç karesi su, kaç karesi karadır?

A)	Kara Tabakası	Su Tabakası
	20	20
B)	Kara Tabakası	Su Tabakası
	15	25
C)	Kara Tabakası	Su Tabakası
	10	30

13- • Canlılar sadece Kara tabakasında yaşar.
• Dünya'nın en büyük katmanı Çekirdektir.
• Dünyamızın en dış katmanı Yer kabuğudur.
• Magma Dünya'nın görünen katmanlarından biridir.
• Kara tabakası su tabakasından daha geniş görünür.
Yukarıdaki yorumlar ile ilgili aşağıdakilerden hangisi söylenebilir?

- A) Üç tanesi doğru, ikisi yanlıştır.
B) İki tanesi yanlış, üçü doğrudur.
C) Hepsisi de yanlıştır.



14- Yukarıdaki görsellere göre hangi yorum doğru değildir?

- A) Dünyamızın katmanlarına şeftali örnek olarak gösterilebilir.
B) Dünyamızın Çekirdek katmanı tıpkı karpuzun çekirdeklerine benzer.
C) Yer küre tıpkı elmanın kabuğu gibi incedir.

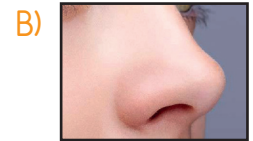
DUYULARIMIN SAĞLIĞI

Sağlığın için bol bol havuç ye,
Doğrudan bakma kızgın Güneş'e.
İzleme yakından televizyonu,
Hep sağlıklı kalsınlar ölesiye.

Dumanlı pis kokulu yerde durma,
İçimdeki kılları asla koparma.
Bilmediklerini sakın koklama.
Sonra soluğu KBB'de alma.

Mesut Yavuztürk

15- Yukarıdaki iki dördlükte aşağıdaki hangi duyu organının sağlığına değinilmemiştir?



FEN BİLİMLERİ TESTİ BİTTİ.
CEVAPLARINIZI KONTROL EDİNİZ.



Merhaba arkadaşlar. Adım Efe. Uzun boylu, normal kiloda biriyim. Kahve gözlü, esmer tenli, kısa düz siyah saçlıyım. Güler yüzlü, arkadaş canlısıyım. Arkadaşıma birşey olursa çok üzülürüm. Hayvanları çok severim.

1- Yukarıdaki konuşmasında Efe, aşağıdaki hangi özelliğinden söz etmemiştir?


- A) Fiziksel özelliğinden
- B) Beceri özelliğinden
- C) Duygusal özelliğinden

2- Arkadaş seçerken aşağıdakilerden hangisi dikkate alınmalıdır?

- A) Kendi cinsiyetimizden olması
- B) Fiziksel özellikleri
- C) Olumlu davranışları

3- "Yeşim, sıra arkadaşının boya kalemlerini izinsiz aldı. Üstelik iki tanesini kaybetti. Sıra arkadaşı Yağmur da bunu fark etti.

Bu durumda Yağmur'un yüz ifadesi aşağıdakilerden hangisi gibi olur?



4- Yukarıdaki kroki 3-A sınıfının oturma planını göstermektedir.

"Ben orta sıra grubundaki 4. sıranın sol tarafında oturuyorum. Yanımda ise var." diyen öğrencinin yanında oturan kimdir?

- A) Oya
- B) İpek
- C) Suna



Bugün sınıfımızda başkanlık seçimi vardı. Dört arkadaşımız aday oldu. Çalışmalarını yaptılar. Öğrenci arkadaşlar özgürce oylarını kullandılar. Adaylar arasından en çok oyu alan başkan seçildi.

5- Yukarıdaki anlatılan olay, zihnimizde aşağıdakilerden hangisini çağrıştırmaz?

- A) Demokrasi
- B) Özgürlük
- C) Eğlence

6- Aşağıdakilerden hangisi sınıfımızda bulunan eşyalardan değildir?

A)



B)



C)



7- Aşağıdaki davranışlarımızdan hangisi komşuluk ilişkilerimize zarar verir?

- A) Odamızda müziğin sesini sonuna kadar açarak dans etmek.
- B) İhtiyar komşumuzun poşetlerinden birini taşıyarak yardım etmek.
- C) Komşularımızla selamlaşip sohbet etmek.

8- Evimizin adresini tarif ederken aşağıdaki görselleri verilenlerin hangisinden yararlanmayız?

A)



B)



C)



9- Aşağıdakilerden hangisi aile içindeki yardımlaşma ve dayanışmaya örnek olamaz?

- A) Annem evi baştan aşağı süpürdü. Ablam yerleri ve dolapları sildi. Babam eşyaların yerlerini değiştirdi. Ben de babama yardım ettim.
- B) Annem akşam yemeğini pişirirken babam ayran yaptı. Ablam sofrayı kurarken ben de büfeden ekmek aldım.
- C) Altay okuldan geldi, kıyafetlerini değiştirdi. Yiyecek birşeyler atıştırdı. Spor ayakkabılarını giyip dışarı fırladı.

10- Aşağıdaki seçeneklerde verilen aile içi görev eşleştirmelerinden hangisi doğrudur?

- A) Yemek yapmak, temizlik yapmak, elbiseleri ütölemek ve bebeğe bakmak (Abla)
- B) Gelir getiren bir işte çalışıp para kazanarak evin geçimini sağlamak. (Baba)
- C) Okulda verilen ödevleri evde yapmak. (Anne)